

Calcul Scientifique

Etude de l'écoulement d'air dans un tunnel

CHATEAU Carine
ROBIN Olivia
ZAZZARON Chloé

Avril 2007

1AG4

PLAN

INTRODUCTION

I -POSITIONNEMENT DU PROBLEME ET HYPOTHESES

II-APPROCHE SIMPLIFIEE / DETERMINATION D'UNE SOLUTION DANS UN CAS IDEAL :

- 1) Hypothèse 1 : le débit linéique est nul**
- 2) Hypothèse 2 : On injecte un débit linéique $q \neq 0$**
- 3) Détermination de u_0 sous l'hypothèse $K=0$**

III) REPONSE A DES PERTURBATIONS EXTERIEURES :

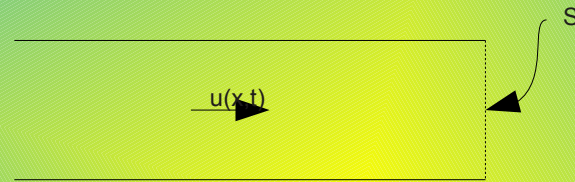
- 1) Modification des conditions météorologiques extérieures**
- 2) Evènements particuliers du type incendie**

INTRODUCTION

Objectif de l'étude :

Etudier l'écoulement d'air dans un tunnel

- Présentation du tunnel :



Longueur : L

Section : S



- la vitesse de l'air en fonction du temps et de l'espace

$u(x,t)$

- équations différentielles de Navier-Stokes avec $p_{\text{air}} = \text{constante}$

S_m : sources de masse dans le tunnel

S_{mvt} : sources de quantité de mouvement

P: pression

$$\rho \frac{\partial u}{\partial t} + 2 * \rho u(x,t) * \frac{\partial u}{\partial x}(x,t) = \frac{-\partial P}{\partial x} + S_{mvt}$$

I - POSITIONNEMENT DU PROBLEME ET HYPOTHESES

Etude des variations de la vitesse de l'air avec les hypothèses:

→ $S_m = q/S$

q débit linéique

→ Gradient de pression composé

■ des contrepressions atmosphériques $\Delta p_a/L$

■ des pertes de charge en entrée et en sortie du tunnel, fonction

◆ du coefficient de perte de charge en entrée ξ_e

◆ du coefficient de perte de charge en sortie ξ_s

◆ de la vitesse u en valeur absolue

→ Le frottement de l'air sur les parois (source de quantité de mouvement) $\frac{\partial P}{\partial x} = \frac{\Delta P_a}{L} + \frac{\rho}{2 * L} (\xi_e + \xi_s) u^2(x, t)$

$$S_{mvt} = \frac{-\lambda \rho}{2 * D_h} * u(x, t) * |u(x, t)|$$

II-APPROCHE SIMPLIFIEE / DETERMINATION D'UNE SOLUTION DANS UN CAS IDEAL :

Systeme simplifié

$$\frac{\partial u}{\partial x}(x, t) = \frac{q}{S}$$

$$\rho * \frac{\partial u}{\partial t}(x, t) + 2 * \rho u(x, t) * \frac{\partial u}{\partial x}(x, t) = \frac{-\Delta Pa}{L} - \frac{\rho}{2} * \left(\frac{\xi_e + \xi_s}{L} + \frac{\lambda}{D_h} \right) * u(x, t) * |u(x, t)|$$

1) Hypothèse 1 : le débit linéique est nul

Le système devient (avec $q=0$ et $\Delta Pa=0$) :

$$\frac{\partial u}{\partial x}(x, t) = 0$$

$$\frac{\partial u}{\partial t}(x, t) = -\left(\frac{1}{2}\right) * \left(\frac{\xi_e + \xi_s}{L} + \frac{\lambda}{D_h}\right) * u(x, t) * |u(x, t)| = K * u(x, t) * |u(x, t)|$$

On pose K la constante :

$$K = -\frac{1}{2} \left(\frac{\xi_e + \xi_s}{L} + \frac{\lambda}{D_h} \right)$$

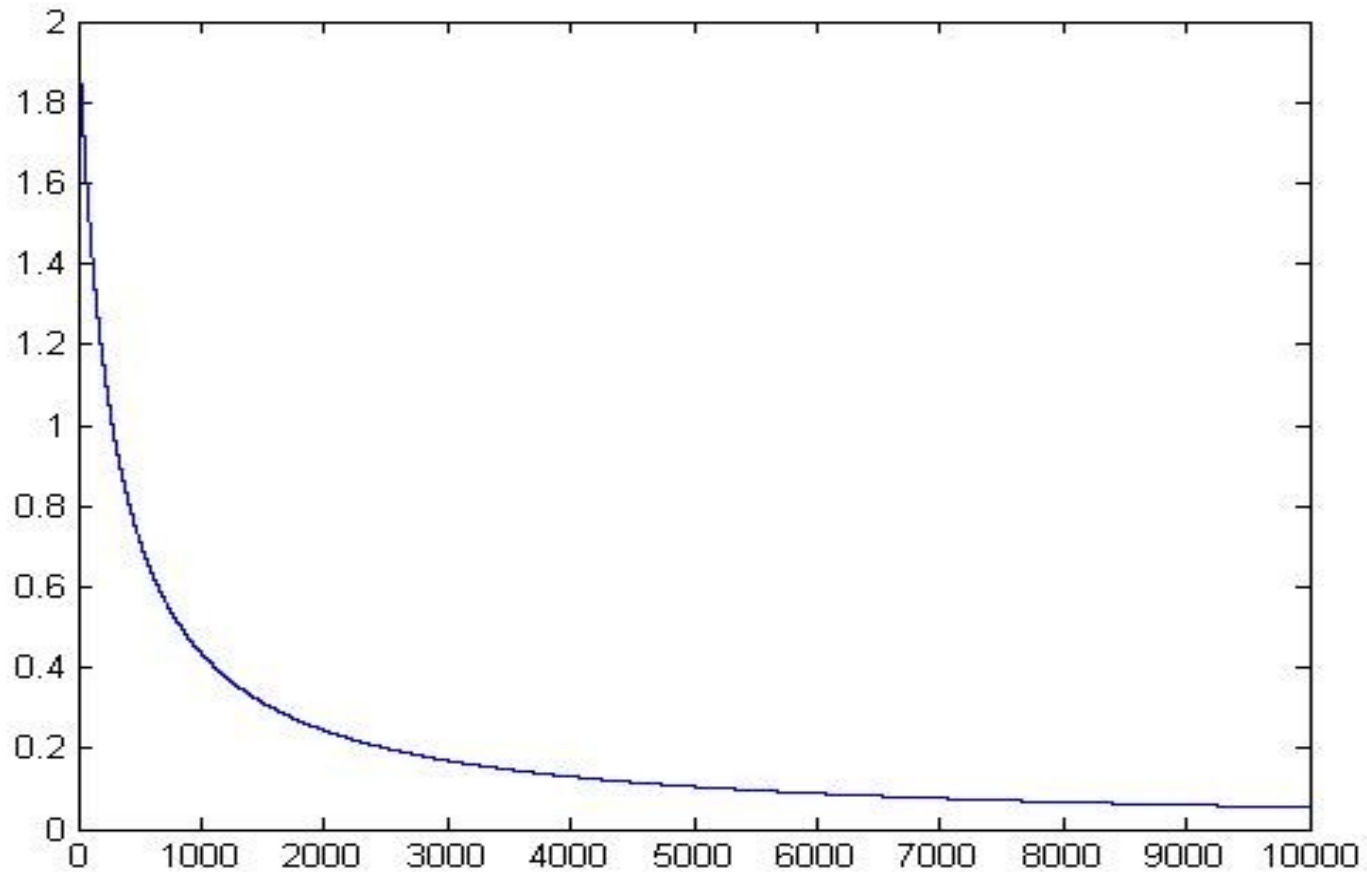
Résolution de $u(x,t)=u(t)$:

Schéma numérique de type Runge-Kutta de rang 1

\Leftrightarrow

Schéma d'Euler explicite à 1 pas

$$u_{n+1} = u_n + h_n * K * u_n * |u_n|$$



Représentation Graphique de $u(x,t)$ en fonction de t

avec $u(x=0, t=0) = 2$

$h=1/4$

$t_{\max}=10\ 000\ \text{s}$

Asymptote en $u(t)=0$ quand $t \rightarrow \infty$

2) Hypothèse 2 : On injecte un débit linéique $q \neq 0$

On a $q \neq 0$ et $\Delta Pa \neq 0$

On peut écrire $\mathbf{u(x,t)} = \mathbf{g(x)} + \mathbf{f(t)}$

$$g(x) = \frac{q}{S} x + g(0)$$

$$\rho f'(t) + 2\rho \left(\frac{q}{S} x + g(0) + f(t) \right) \frac{q}{S} = \frac{-\Delta Pa}{L} - \frac{\rho}{2} \left(\frac{\xi_e + \xi_s}{L} + \frac{\lambda}{D_h} \right) \left[f(t) + \frac{q}{S} x + g(0) \right] \left| f(t) + \frac{q}{S} x + g(0) \right|$$

3) Détermination de u_0 sous l'hypothèse $K=0$

Equation vérifiée par $f(t)$

$$\rho f'(t) + 2\rho \left(\frac{q}{S} x + g(0) + f(t) \right) \frac{q}{S} = \frac{-\Delta Pa}{L}$$

On recherche la solution pour $x=0$ d'où :

$$f'(t) = -2 \frac{q}{S} f(t) - 2 \frac{q}{S} g(0) - \frac{\Delta Pa}{\rho L}$$

On a donc l'expression de $f(t)$ pour $x=0$:

$$f(t) = \left[u_0 + \frac{\Delta Pa S}{2 \rho q L} \right] e^{-2 \frac{q}{S} t} - g(0) - \frac{\Delta Pa S}{2 \rho q L}$$

3) Détermination de u_0 sous l'hypothèse $K=0$

On recherche l'expression de la solution $u_p(x)$,
i.e. de $u(x,t)$ en régime permanent

$$2 \rho u_p(x) \frac{\partial u_p(x)}{\partial x} = \frac{-\Delta Pa}{L}$$

On veut l'expression de $u_p(x=0)$

$$u_p(x=0) = u_0 = \frac{-\Delta Pa S}{2 \rho Q L}$$

Puisque $\frac{\partial u}{\partial x}(x, t) = \frac{q}{S}$

La valeur de u_0 est cohérente avec l'expression trouvée pour $f(t)$.

En effet, on a :

$$f(t) = \left[u_0 + \frac{\Delta Pa S}{2 \rho q L} \right] e^{-2 \frac{q}{S} t} - g(0) - \frac{\Delta Pa S}{2 \rho q L}$$

En régime permanent, $f(t)$ vaut donc

$$f(t) = -g(0) - \frac{\Delta Pa S}{2 \rho q L}$$

Ce qui correspond à :

$$u_0 + \frac{\Delta Pa S}{2 \rho q L} = 0$$

On retrouve donc bien la valeur de u_0 .

3) Détermination de u_0 sous l'hypothèse $K=0$

Calcul de u_0 pour $\Delta Pa \in [-200 \text{ Pa}, 200 \text{ Pa}]$ par pas de 50 Pa.

ΔPa	-200	-150	-100	-50	0	50	100	150	200
U_0	54,2	40,65	27,1	13,55	0	-13,55	-27,1	-40,65	-54,2

u_0 est de signe négatif par rapport à ΔPa .

Ceci est physiquement cohérent : une variation négative de pression à l'entrée du tunnel, c'est-à-dire une dépression, correspond à une vitesse d'air négative.

III- REPONSE A DES PERTURBATIONS EXTERIEURES :

Il s'agit de se placer dans des situations limites afin d'étudier la réponse de la vitesse à de telles perturbations

1) Modification des conditions météorologiques extérieures :

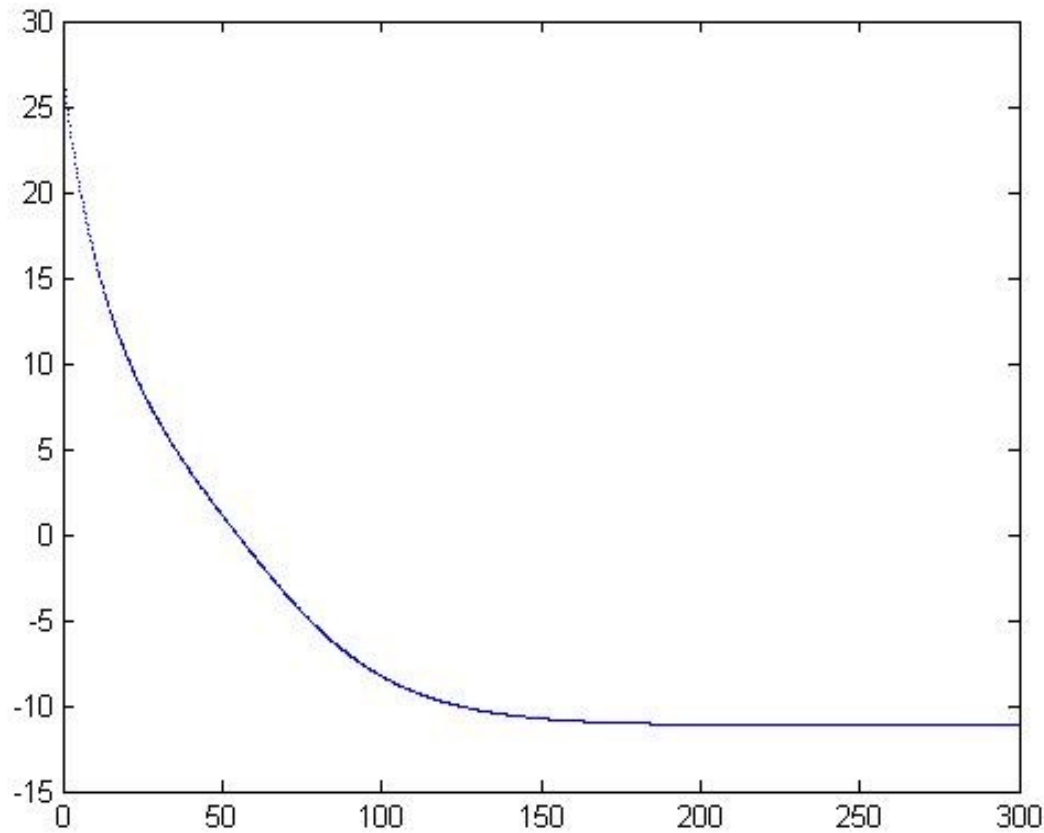
On veut étudier la réponse de la vitesse à une modification brutale de la pression dans le tunnel.

$$\Delta P_{a,ini} = -100 \text{ Pa pour } t < 0$$

$$\Delta P_a = 600 \text{ Pa pour } t = 0$$

Le schéma de Runge-Kutta au rang 1 donne :

$$u_{i+1} = u_i \left[1 - h_i \left(\frac{2q}{S} + K |u_i| \right) \right] - h_i \frac{\Delta Pa}{\rho L}$$



Représentation graphique de $u(x,t)$

$$h=1/4 ; t_{\max}=300s$$

$$u_0=27,10m/s$$

$$\Delta Pa=-100 Pa \text{ pour } t < 0$$

$$\Delta Pa=600 Pa \text{ pour } t = 0$$

$$q= 0,034 m^3.s^{-1}/m$$

- ♦ la vitesse diminue de manière brutale au début
- ♦ La vitesse se stabilise autour de la valeur -12m/s

THE END